



第5单元检测卷

(时间:45分钟 满分:100分)

一、填一填。(每空1分,共25分)

- 人民币的单位有()、()、()。
- 面值最小的人民币是(),面值最大的人民币是()。

	
()元()角	()元()角

- | | |
|----------|--------------|
| 4元=()角 | 5元3角=()角 |
| 30分=()角 | 43分=()角()分 |
| 8元=()角 | 8元4角=()角 |
| 70角=()元 | 56角=()元()角 |

- 在○里填上“>”“<”或“=”。













8元○7元6角	3元1分○3元1角
5元4角○54角	7元8角○7角8分
4元8角○5元	5元7角○57角

家长签字:

教师评语:

二、算一算。(共26分)

- (14分)换一换。

- 一张可以换()张.
- 一张可以换()张.
- 一张可以换()张.
- 一张可以换()张或()张.
- 一张可以换()张和()张.

- (12分)

7角-5角=()角	11元-2元=()元
8元+5元=()元	9角+5角=()元()角
17元-9元=()元	5元6角-5角=()元()角
7角+3角=()角	4元7角-7角=()元
1元-8角=()角	6元9角-6元=()角

三、在合适的答案下面画“√”。(共15分)

- (10分)给出的钱能买什么?

(1)	  		
	  	10元	9元5角
			9元8角

(2)



56 元 65 元 70 元

2. (5 分)



● 6元

我买一个热水瓶，付出一张 , 找回的钱比5元少。



一个热水瓶多少钱?

36 元	46 元	56 元







四、购物。(共 34 分)

1. (22 分)






8元 4元5角 2元5角 9元 10元

(1)(12 分)

买的物品	 	 	 
应付的钱数			

续 表

付的钱数			
应找的钱数			


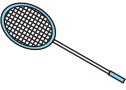
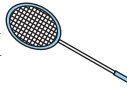
(2)(5 分)18 元正好能买哪两种物品?

(3)(5 分)一本故事书比一个皮球贵多少元钱?

2. (12 分)



4元 18元 2元 ?元

(1)买一个  和一支  一共花了 24 元,一支  多少钱?

(2)请你再提一个数学问题并解答。

第5单元检测卷

(时间:45分钟 满分:100分)

一、填一填。(每空1分,共25分)

- 人民币的单位有(元)、(角)、(分)。
- 面值最小的人民币是(1分),面值最大的人民币是(100元)。

3.

(16)元(8)角	(29)元(6)角

4. 4元=(40)角 5元3角=(53)角
 30分=(3)角 43分=(4)角(3)分
 8元=(80)角 8元4角=(84)角
 70角=(7)元 56角=(5)元(6)角

5. 在○里填上“>”“<”或“=”。

8元 > 7元6角	3元1分 < 3元1角
5元4角 = 54角	7元8角 > 7角8分
4元8角 < 5元	5元7角 = 57角

家长签字:

教师评语:

二、算一算。(共26分)

1. (14分)换一换。

- (1) 一张 可以换(2)张 。
- (2) 一张 可以换(5)张 。
- (3) 一张 可以换(2)张 。
- (4) 一张 可以换(2)张 或(10)张 。
- (5) 一张 可以换(4)张 和(20)张 。

2. (12分)

7角-5角=(2)角	11元-2元=(9)元
8元+5元=(13)元	9角+5角=(1)元(4)角
17元-9元=(8)元	5元6角-5角=(5)元(1)角
7角+3角=(10)角	4元7角-7角=(4)元
1元-8角=(2)角	6元9角-6元=(9)角

三、在合适的答案下面画“√”。(共15分)

1. (10分)给出的钱能买什么?

(1)

10元	9元5角	9元8角	

√

(2)

20元

10元

5元

56元

65元

70元

2. (5分)

6元

我买一个热水瓶，付出一张，找回的钱比5元少。

一个热水瓶多少钱？

36元	46元	56元
	✓	

四、购物。(共 34 分)

1. (22分)

8元

4元5角

2元5角

9元

10元

(1)(12分)

买的物品	<p>17</p>	<p>3</p>	<p>19</p>
应付的钱数			

续 表

付的钱数	<p>1</p>	<p>7</p>	<p>3</p>
应找的钱数			

(2)(5分)18元正好能买哪两种物品？

皮球与故事书

(3)(5分)一本故事书比一个皮球贵多少元钱？

$10 - 8 = 2(\text{元})$

2. (12分)

4元

18元

2元

?元

(1)买一个和一支一共花了 24 元，一支多少钱？

$24 - 4 = 20(\text{元})$

(2)请你再提一个数学问题并解答。

略